

1ª REVISÃO



PROFESSOR: ADRIANO BANDEIRA

DISCIPLINA: GEOGRAFIA

DATA: 15/04/2018



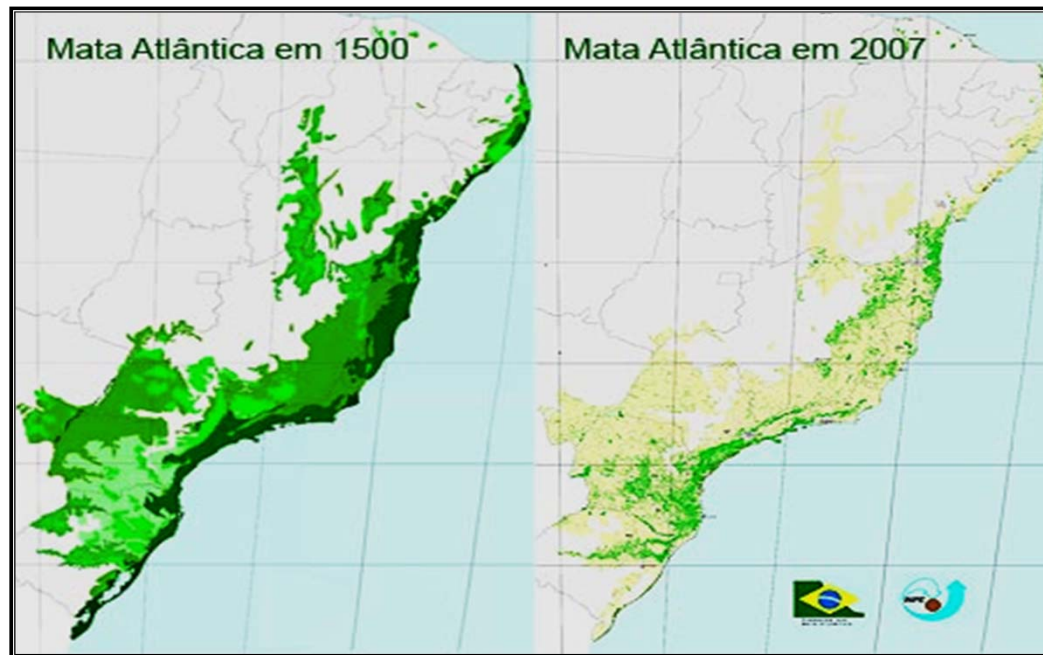
EDUCAÇÃO
Secretaria de Estado
da Educação / SEDUC





- *Licenciatura Plena em Geografia – UESPI;*
- *Ciências Econômicas – UFPI;*
- *Especializado em Direito Ambiental – UEMA e Gestão Ambiental – CEUT;*
- *Mestrado em Concursos – UFBA;*
- *22 anos de magistério;*

- 01- A Mata Atlântica, que originalmente se estendia por todo o litoral brasileiro, do Ceará ao Rio Grande do Sul, ostenta hoje o triste título de uma das florestas mais devastadas do mundo. Com mais de 1 milhão de quilômetros quadrados, hoje restam apenas 5% da vegetação original, como mostram as figuras.





01- Considerando as características histórico-geográficas do Brasil e a partir da análise das figuras é correto afirmar que

- A) as transformações climáticas, especialmente na Região Nordeste, interferiram fortemente na diminuição dessa floresta úmida.
- B) nas três últimas décadas, o grau de desenvolvimento regional impediu que a devastação da Mata Atlântica fosse maior do que a registrada.
- C) as atividades agrícolas, aliadas ao extrativismo vegetal, têm se constituído, desde o período colonial, na principal causa da devastação da Mata Atlântica.
- D) a taxa de devastação dessa floresta tem seguido o sentido oposto ao do crescimento populacional de cada uma das Regiões afetadas.
- E) o crescimento industrial, na década de 50, foi o principal fator de redução da cobertura vegetal na faixa litorânea do Brasil, especialmente da região Nordeste.

02- Leia o texto:

Sexto maior produtor mundial, com 2 milhões de veículos fabricados em 2013, a Índia espera alcançar o quarto lugar em 2016. A reforma trabalhista apresentada em outubro de 2014 pelo novo primeiro-ministro, Narendra Modi, pretende incentivar a volta do crescimento que o setor conheceu nos anos 2000 (uma média de 8% ao ano). Ele impõe a redução das inspeções trabalhistas, a “simplificação” de algumas leis, o prolongamento do período de aprendizagem, sempre ampliando o uso sistemático de uma mão de obra precária e mal paga. Essas medidas são, em parte, destinadas a atrair investidores estrangeiros, num momento em que a campanha governamental “Made in India” segue a todo vapor. E trazem o risco de agravar a precarização há muitos anos em curso na indústria, a qual provocou a emergência, entre a juventude trabalhadora, de práticas e aspirações novas.



O texto permite supor que

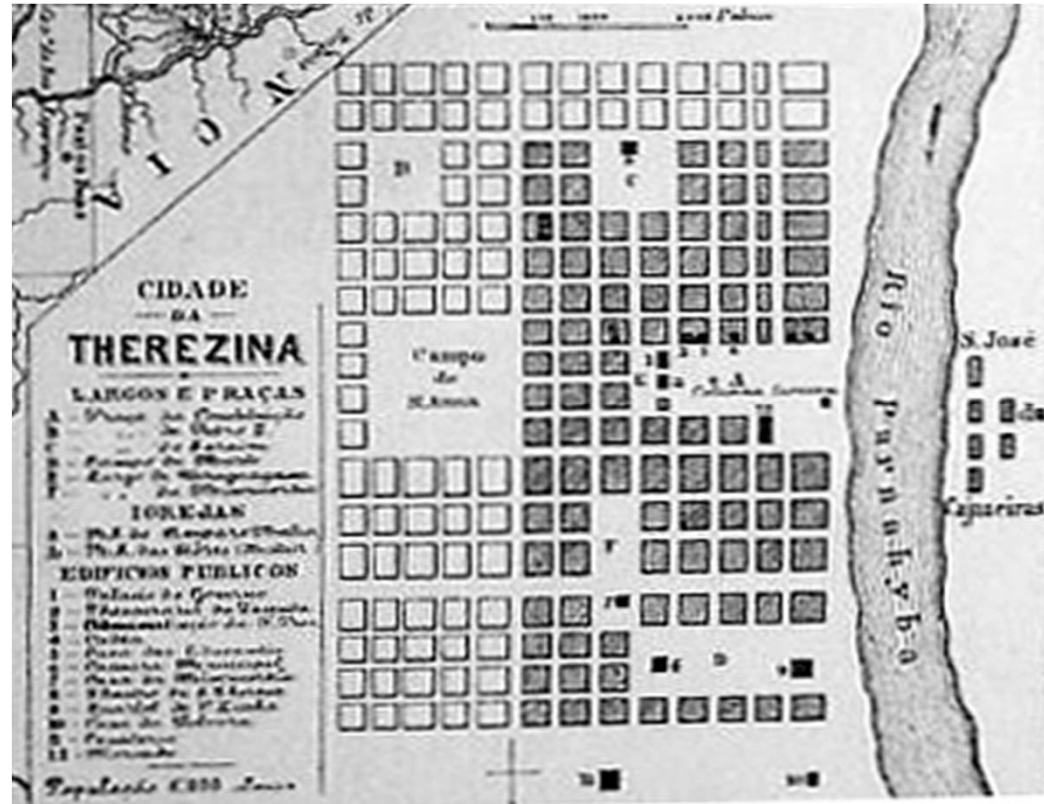
- a) a Índia copia o modelo de desenvolvimento econômico japonês, utilizando mão de obra depreciada, como o Japão procede até hoje.
- b) tal qual os Tigres Asiáticos, a Índia possui baixa atuação de sindicatos, o que possibilita o uso de políticas de arrocho salarial.
- c) a Índia segue uma tendência que a China adotou no início de seu boom econômico, utilizando mão de obra extremamente barata.
- d) o movimento sindicalista indiano já alcança o nível de mobilização observado nos sindicatos europeus.
- e) o desenvolvimento econômico indiano se aproxima daquele observado no Brasil, mostrando a tendência da produção industrial indiana ter acesso ao mercado brasileiro.

03- Originalmente, Brasília foi planejada para ser o polo de uma nova fase de integração nacional. Observando a foto, conclui-se que:

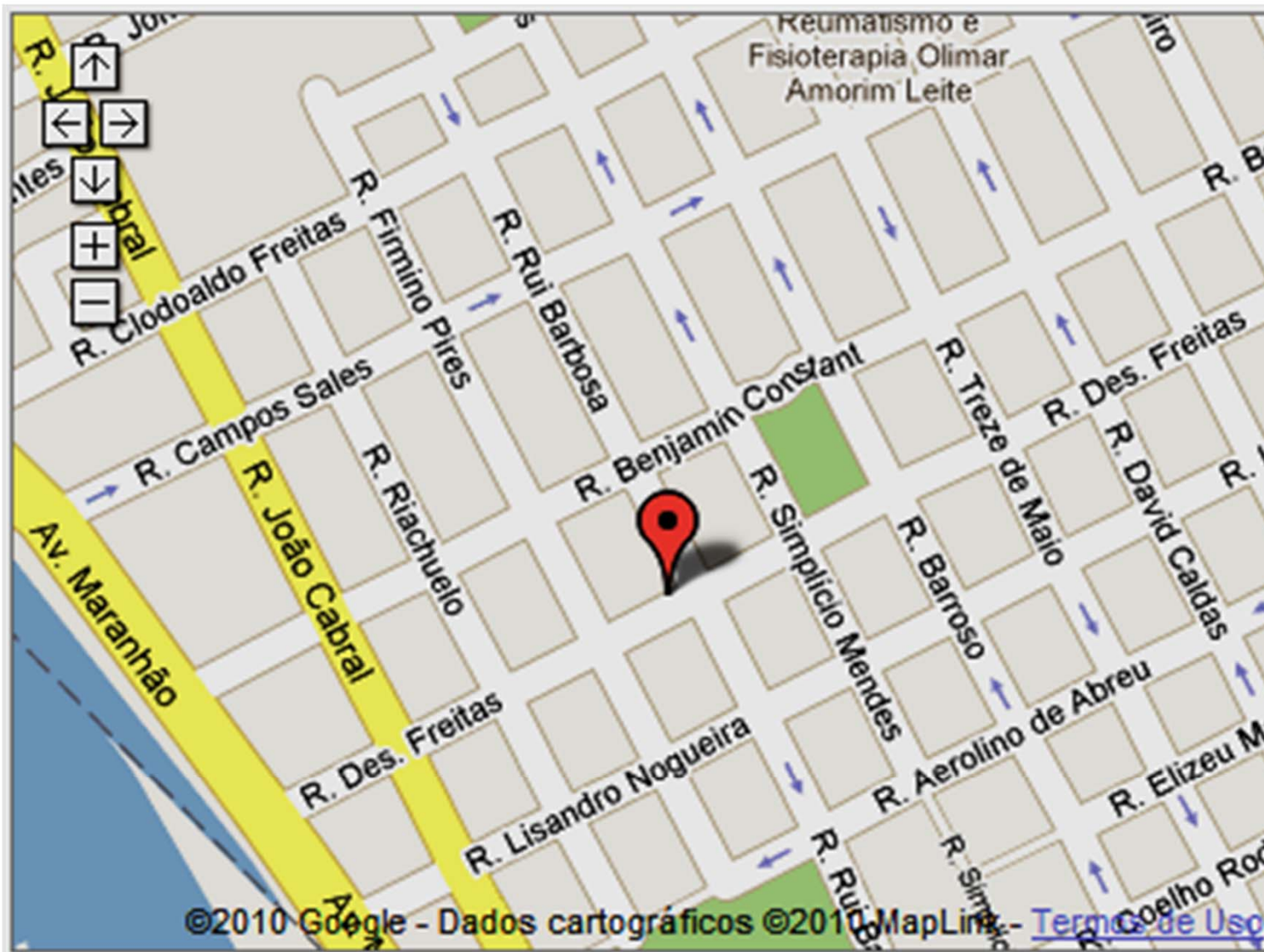


TERESINA – 1852

A capital do Estado do Piauí foi a **segunda cidade planejada no Brasil**. Isso se deu durante o Império, visto que Teresina foi fundada em 1852. Assim como Salvador, a função primária de Teresina era a administrativa e servir de capital provinciana à época.



O desenho da cidade foi feito por José Antônio Saraiva e João Isidoro França. A cidade recebeu esse nome em homenagem à Imperatriz Teresa Cristina.



- I) A região em que se estabeleceu Brasília carece, ainda hoje, de eixos rodoviários, o que explica o limitado número de migrantes na metrópole.
- II) O processo de ocupação revela que a cidade foi planejada, de fato, para receber populações das mais diversas classes sociais, dando oportunidade a todos de convivência, sem grandes eclosões de tensões sociais.
- III) Ao lado do plano-piloto, onde estão localizados os grandes edifícios públicos e as superquadras, apareceram as cidades-satélites e espaços ocupados por população de baixa renda, reproduzindo as contradições da urbanização brasileira.

São corretas:

a) todas

b) I e III

c) I e II

d) apenas a II

e) apenas a III

04- *Poucos dias após o confronto armado entre as forças pró-governo e opositores ter chegado à capital do país, Damasco, um atentado suicida atingiu nesta quarta-feira o centro nervoso do regime de Bashar al-Assad, causando a morte de alguns dos principais nomes de sua cúpula de segurança. Segundo a imprensa estatal síria, morreram no ataque o ministro da Defesa do país, general Dawoud Abdelah Rayiha, seu vice-ministro, general Assef Shawkat (cunhado de Assad), e o general sírio Hassan Turkmani, chefe do grupo governamental encarregado da crise, ex-ministro da Defesa e até então assistente do vice-presidente.*





O texto acima se refere aos protestos que se iniciaram na Síria em março de 2011 e que visam à derrubada do ditador Bashar al-Assad. Sobre essa questão, é correto afirmar que:

- a) Os protestos na Síria não chamam a atenção dos demais países, pois estes não consideram como estratégica uma possível intervenção militar no país, que passa por uma guerra civil.
- b) A queda do ditador sírio seria considerada vantajosa para os Estados Unidos, uma vez que o líder de Estado mantém relações diplomáticas muito estreitas com o Irã, grande inimigo político dos estadunidenses.
- c) Os protestos na Síria, apesar de fazerem parte do mundo árabe, não fazem parte dos acontecimentos referentes à “Primavera Árabe”, uma vez que eles são anteriores a ela.
- d) O texto fornece a informação de que membros do governo sírio foram atacados e mortos por forças rebeldes em julho de 2012. Esse fato foi um dos elementos decisivos para a queda do ditador Bashar al-Assad.
- e) o cenário do conflito na Síria acabou logo após a intervenção da ONU e dos países da União Europeia.

- “(...) o processo de ocupação espacial da população brasileira, nos últimos 56 anos, foi pautado por uma desruralização e pela concentração da população nas áreas urbanas. Esse fenômeno não se deu de forma homogênea no espaço nacional. As diferenças regionais estão fortemente associadas às diferenças nos *timings* em que os fenômenos ocorreram em cada região, os quais, por sua vez, decorreram das especificidades regionais (...)”.



O fragmento acima descreve alguns pontos da dinâmica demográfica brasileira na segunda metade do século XX.

Nesse caso, as expressões *desruralização* e *concentração da população nas áreas urbanas* fazem referência, respectivamente,

- a) às migrações inter-regionais e à expansão das cidades.
- b) ao êxodo rural e às migrações intraurbanas.
- c) ao êxodo rural e ao processo de metropolização.
- d) às migrações internas e ao início da urbanização brasileira.
- e) às migrações inter-regionais e ao processo de metropolização.